










DELOVNI LIST – ALGORITMIČNO MIŠLJENJE

IME: _____

1. Katero zaporedje ukazov bo čebelico pripeljalo do oranžne rože? Čebela pozna naslednje ukaze:

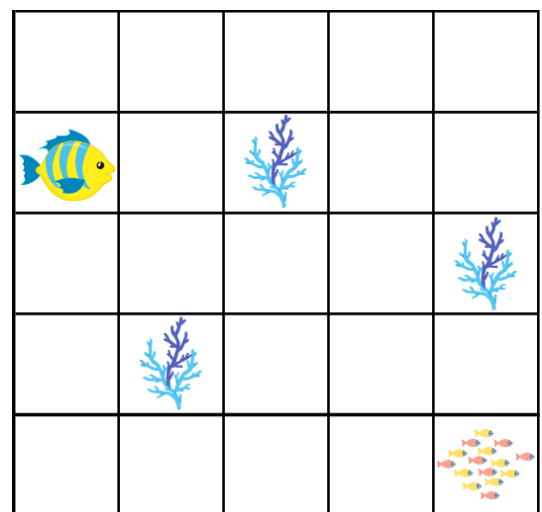
Naprej		Čebela gre eno polje naprej.
Nazaj		Čebela gre eno polje nazaj.
Desno		Čebela se na mestu obrne v desno.
Levo		Čebela se na mestu obrne v levo.



- a) 
- b) 
- c) 
- d) 

2. Napiši zaporedje ukazov, ki bo ribo pripeljalo do skupine rib. Med potjo se mora izogibati poljem z algami.

Naprej		Riba gre eno polje naprej.
Nazaj		Riba gre eno polje nazaj.
Desno		Riba se na mestu obrne v desno.
Levo		Riba se na mestu obrne v levo.



ZAPOREDJE UKAZOV: _____

