








Katero zaporedje ukazov bo čebelico pripeljalo do rože?

Čebela pozna naslednje ukaze:

<b>Naprej</b>		Čebela gre eno polje naprej.
<b>Nazaj</b>		Čebela gre eno polje nazaj.
<b>Desno</b>		Čebela se <b>na mestu</b> obrne v desno.
<b>Levo</b>		Čebela se <b>na mestu</b> obrne v levo.



- a) 
- b) 
- c) 