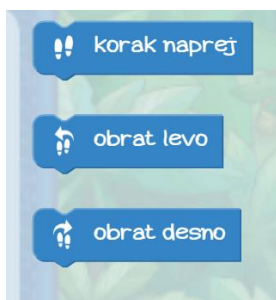


UČNI LIST – ALGORITMI

Teci Marko!

1. Marko želi priti do zlate zvezdice. Na spodnje črtice zapiši korake, s katerimi bo Marko prišel do nje. Lahko uporabiš korake na levi strani.




Tvoji koraki:

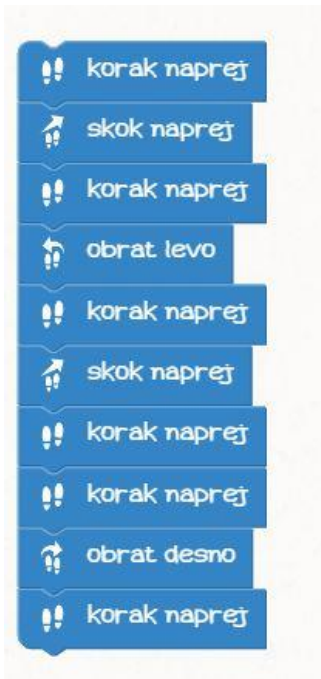
1. _____
2. _____
3. _____
4. _____
5. _____
6. _____
7. _____
8. _____
9. _____
10. _____



2. Ugotovi, ali so kakšne napake v korakih in če so, jih popravi tako, da bo Marko prišel do zvezdice.




3. Kam bo prišel Marko s podanimi koraki? Označi na sliki.



Lightbot:Code Hour

4. Napiši vrstni red korakov, da bo robotek prižgal lučko.


Koraki:



Odgovor:



5. Ali robotku uspe prižgati vse lučke na poti? Če ne, napiši pravilni vrstni red ukazov.



MAIN

P1	↶	🌀	🌀
💡	↶	P1	↶
🌀	💡		

PROC1

↑	💡	↑	💡
---	---	---	---

6. Robot je tokrat dobil navodila, ampak ne vidi poligona. Nariši poligon tako, da ga bo robot s podanimi navodili uspešno rešil.

